

Chasse au trésor- Les réponses

Amicale Laïque de Vauchrétien



Vous êtes positionné(es) au portail de la salle René Besson. L'indicateur de passage est situé dans un rayon de 15 mètres à partir du portail.



Position Google Maps : **8GJF+72M** Brissac-Loire-Aubance ou **47.330719, -0.477440**


Indiquez le numéro de l'indicateur de passage. N'oubliez pas d'indiquer à chaque fois AL avant * le chiffre. Exemple : AL254


Réponse courte

Sans titre

Description (facultative)

Enigme 1 : Qui était René Besson ? *

- Le Maire de la commune entre 1946 et 1952 ?
- Le Directeur et Instituteur de l'école publique ? 
- Le premier propriétaire de la salle éponyme ?
- Le Directeur de la salle de théâtre portant aujourd'hui son nom



Le second point se situe au pin parasol situé 100 mètres après Château Gaillard vers Clope chien. L'indicateur de passage est à 21 pas du pin parasol



Position Google Maps : **8GFH+P9H** Brissac-Loire-Aubance ou **47.330719, -0.477440**

Indiquez le numéro de l'indicateur de passage. *

Réponse courte

Question : En 486 après JC, Vauchrézien qui n'était composée que de quelques ermitages faisant parti du territoire de : ? *

Château de Landifer.

- Souabe
- Neustrie
- Frise
- Austrasie



A sa mort, cette province fit partie du royaume d'Orléans (511), et Clotaire la recueillit en 558 lorsqu'il devint seul roi des Francs.

Au moment de la rivalité de Frédégonde et de Brunehaut, l'Anjou fit partie de la Neustrie.

La bataille de Testry (687) ayant donné aux Austrasiens la prépondérance sur les Neustriens, et rendu irrémédiable la chute

http://www.columbia.edu/cu/lweb/digital/collections/cul/texts/ldpd_7349651_000/ldpd_7349651_000.pdf

Vous devez vous déplacer de 400 mètres environ en direction Clope chien. Avant de monter la rue de Clope Chien, prenez le chemin de terre à droite. Vous apercevrez un bosquets d'arbres sur la droite du chemin au milieu desquels se trouve un puits. L'indicateur de passage est dans un rayon de 13 pas à partir du puits.

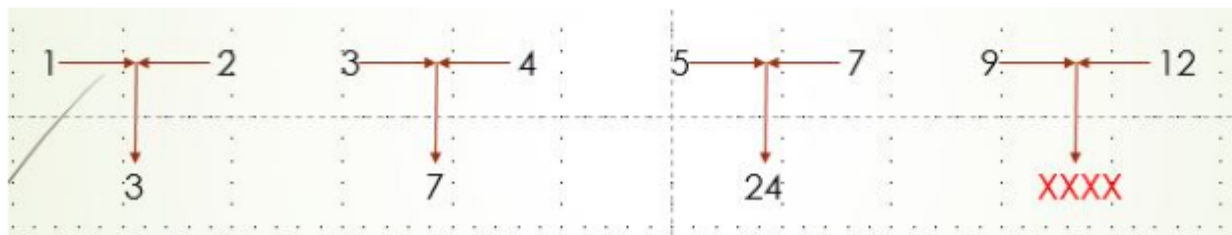


Position Google Maps : **8GFJ+9VQ** Brissac-Loire-Aubance ou **47.3234617, -0.4677749**

Indiquez le numéro de l'indicateur de passage. *

Réponse courte

Question : Trouvez le chiffre manquant ? (10 points) *



$$(1 + 2) * (2 - 1) = 3$$

$$(3 + 4) * (4 - 3) = 7$$

$$(5 + 7) * (7 - 5) = 24$$

$$(9 + 12) * (12 - 9) = 63$$

Réponse courte

Vous déplacer à l'intersection du 17 chemin Piochard et chemin de Forges : l'indicateur de passage se situe dans un rayon de 21 pas à partir du panneau "chemin piochard"




Position Google Maps : **8GJJ+P97** Brissac-Loire-Aubance ou **47.331777, -0.469066**

Indiquez le numéro de l'indicateur de passage.


Réponse courte

Question : Signification du toponyme Grouas *

- De l'ancien français "groie" signifiant terrain de boue ou composé de terre grasse
- Terrain de terre agricole favorable aux plantes à graines
- Terrain caillouteux, graveleux ou pierreux 
- Historiquement, terrain favorable à la nourriture des cochons ou sangliers (Grouin)

Descendre vers l'étang des courtilliers. Vous devez vous rendre sur le pont en bois.

L'indice se trouve à 22 pas du pont



Position Google Maps : **8GPG+5XW** Brissac-Loire-Aubance ou **47.3354784, -0.4725318**

Indiquez le numéro de l'indicateur de passage.

Réponse courte


.....

Question : Avant que les deux maisons soient réhabilitées, l'endroit portait le nom de ? *

- La cabane à Madame Justine
- La cabane du calvaire
- La cabane du Four à bois
- La cabane à Dédé



Rendez vous à la cabane de vigne "les Gerbaudes".



Description (facultative)

Quelle est la position exacte de cette cabane de vigne ? Une seule est valide et permet de trouver cette cabane.

1. Position Google Maps : 8GX9+H4W Brissac-Loire-Aubance ou 47.348992, -0.482166
2. Position Google Maps : 9G24+WM5 Brissac-Loire-Aubance ou 47.352267, -0.493258
3. Position Google Maps : 8GJ4+XGW Brissac-Loire-Aubance ou 47.332476, -0.493657
4. Position Google Maps : 8GVF+7WX Brissac-Loire-Aubance ou 47.3432341, -0.4751533



L'indicateur de passage se trouve à 10 pas de la porte de la cabane. Indiquez le numéro de l'indicateur de passage.

Réponse courte

Quel Président de la république Française s'est arrêté à Vauchrézien :

- Gaston Doumergue
- Albert Lebrun
- Vincent Auriol
- René Coty



<https://www.ouest-france.fr/pays-de-la-loire/angers-49000/la-journee-trepidante-du-president-de-la-republique-4829871>

Vous déplacer vers Beauséjour. Vous êtes à l'intersection de 4 chemins.



Position Google Maps : 8GV8+MG3 Brissac-Loire-Aubance ou **47.344133, -0.483688**

Indiquez le numéro de l'indicateur de passage.

Réponse courte

Un homme veut rentrer dans la tour qui est à proximité. Mais un portier exige un mot de passe pour rentrer. Il attend près de la porte et écoute discrètement pour obtenir le mot de passe. Un premier individu arrive. Le portier dit « huit » et l'autre répond « quatre ». Il rentre.

Un deuxième individu se présente. Le portier dit « six » l'autre répond « trois ». Il rentre.

Notre homme qui avait tout entendu se présente alors à l'entrée. Le portier dit « quatre » et l'homme répond "deux".

Malheureusement, il ne **le laisse pas** rentrer.

Qu'aurait-il dû dire ?

Réponse attendue en lettre (pas de chiffre)

Réponse courte


4 LETTRES

3 LETTRES

6 LETTRES

**Bonne réponse
: six**

Vous déplacer vers la cabane de vigne "Les Bougeais" : l'indicateur de passage se situe dans un rayon de 3 pas à partir de la porte.



Position Google Maps : **8GM6+GGF** Brissac-Loire-Aubance ou **47.333849, -0.488692**

Indiquez le numéro de l'indicateur de passage.

Réponse courte

En avril 1790 à Vauchrézien, le Sieur Marionneau exerçait la profession de :

Cabaretier



Blatier

Bourreau

Feuillardier

<http://www.vendeensetchouans.com/archives/2020/05/28/38329441.html>

L'indicateur de passage se situe à 13 pas du panneau STOP de la rue de Bellevue. Indiquez le numéro de l'indicateur de passage 9. Un cheval peut vous aider..

Réponse courte

Lors d'une foire aux vins, vous demandez à ne déguster que du vin rouge. Lesquels pourrez-vous goûter :

- Un Marsannay rouge
- Une Bandol rouge
- Un Bordeaux Clairet rouge
- un Gaillac rouge
- Ajouter une option ou [ajouter "Autre"](#)



Cases à cocher



AOC Bordeaux clairet : quel œil ?
Les rosés présentent le plus souvent une **couleur rose franc à rose soutenu**. On rencontre une large palette de nuances jusqu'à une teinte saumon.

La robe des clairets est vive, allant du rose pourpre au rose grenat à nuance violine, et présente une intensité colorante plus élevée que les rosés.

Prendre le chemin qui traverse la D55 et revenez dans le bourg de Vauchrézien. ✕ ⋮

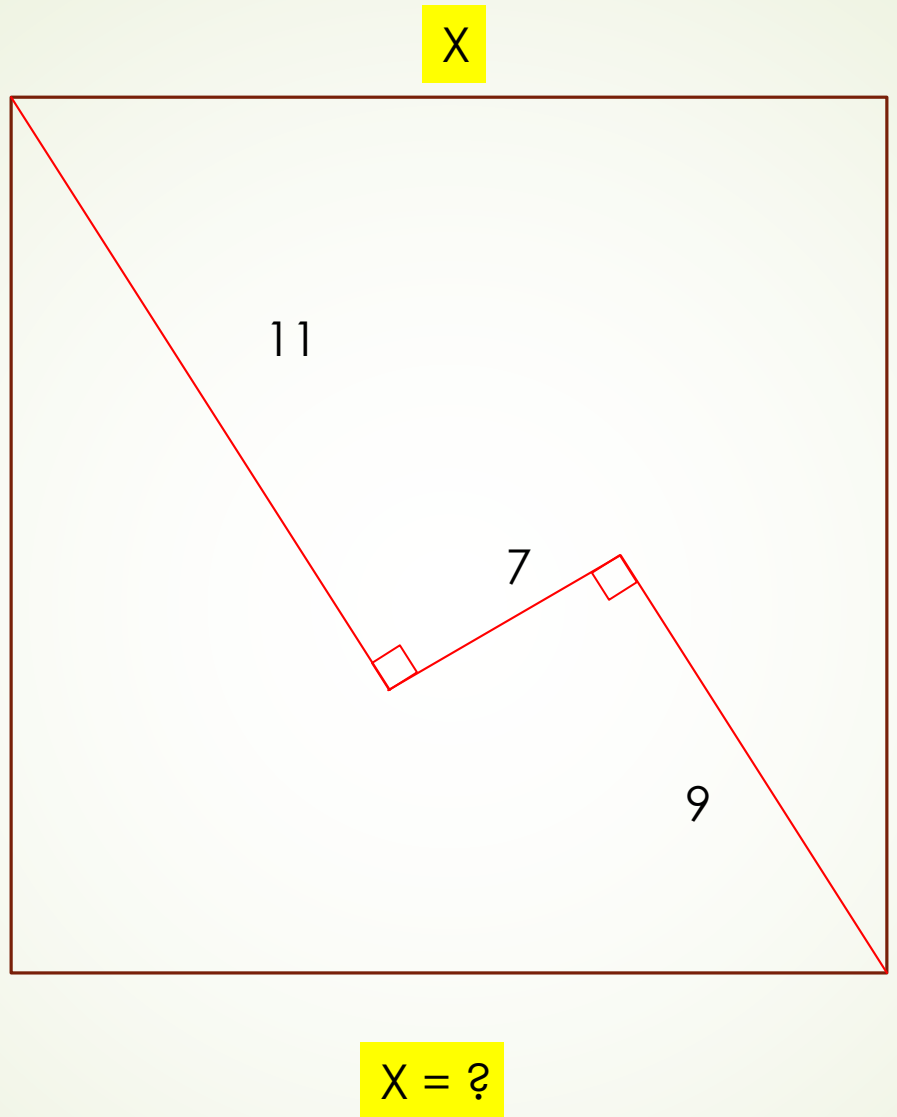
Position Google Maps : **8GHC+J5G Brissac-Loire-Aubance** ou **47.329063, -0.479546**

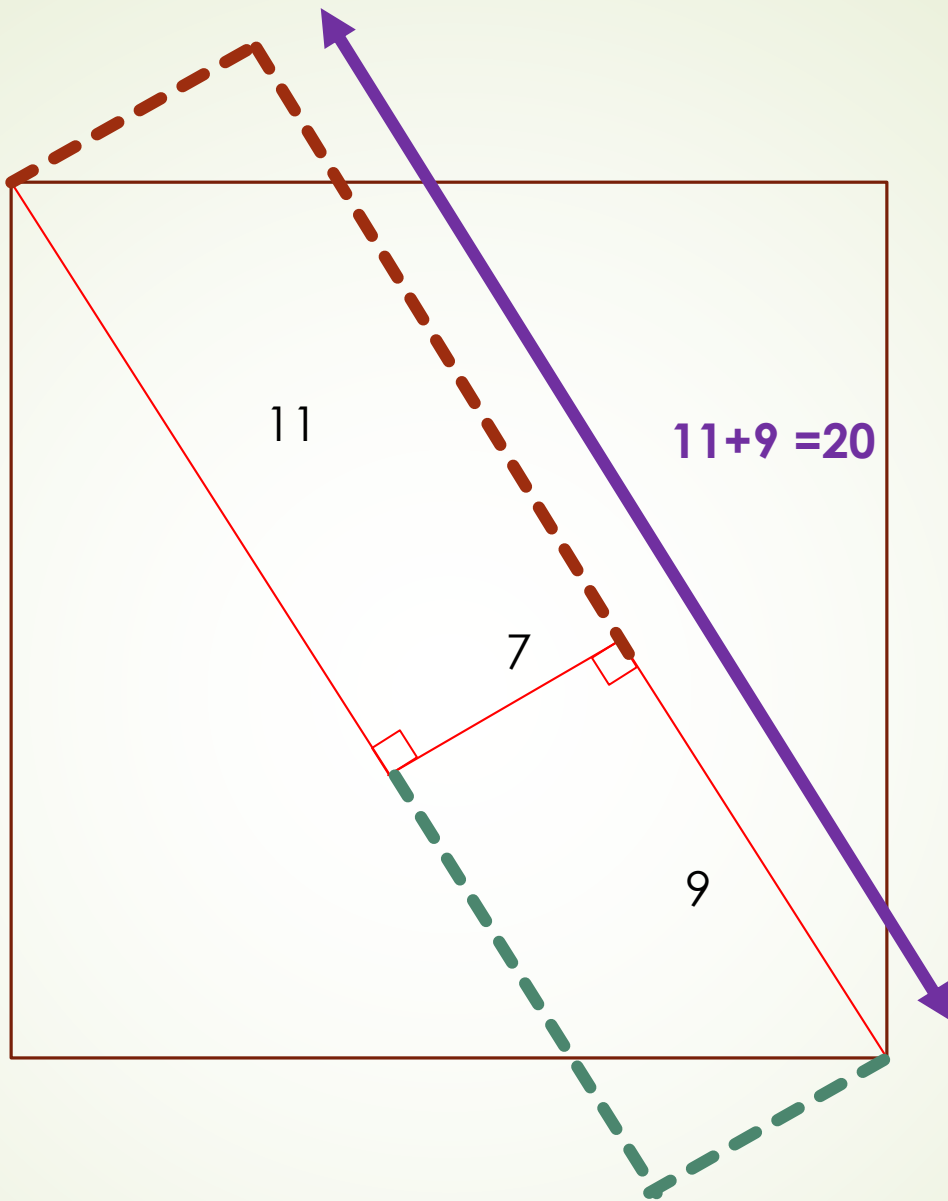
L'indicateur de passage se trouve à l'intersection de la rue de Maillochères et le chemin piétonnier bloqué par des barrières en bois. 7 pas à partir de la grosse pierre posée sur le sol. Indiquez le numéro de l'indicateur de passage 10.

Réponse courte
.....

Dans un carré parfait, 3 droites ont été tracées. Entre la 1ère et la 3ème, l'angle est droit. *
Trouver x sachant que la 1ère droite part du point gauche du carré et la 3ème droite se termine en bas à droite. Réponse avec deux décimales après la virgule. Exemple : 45,00 ou 21,32

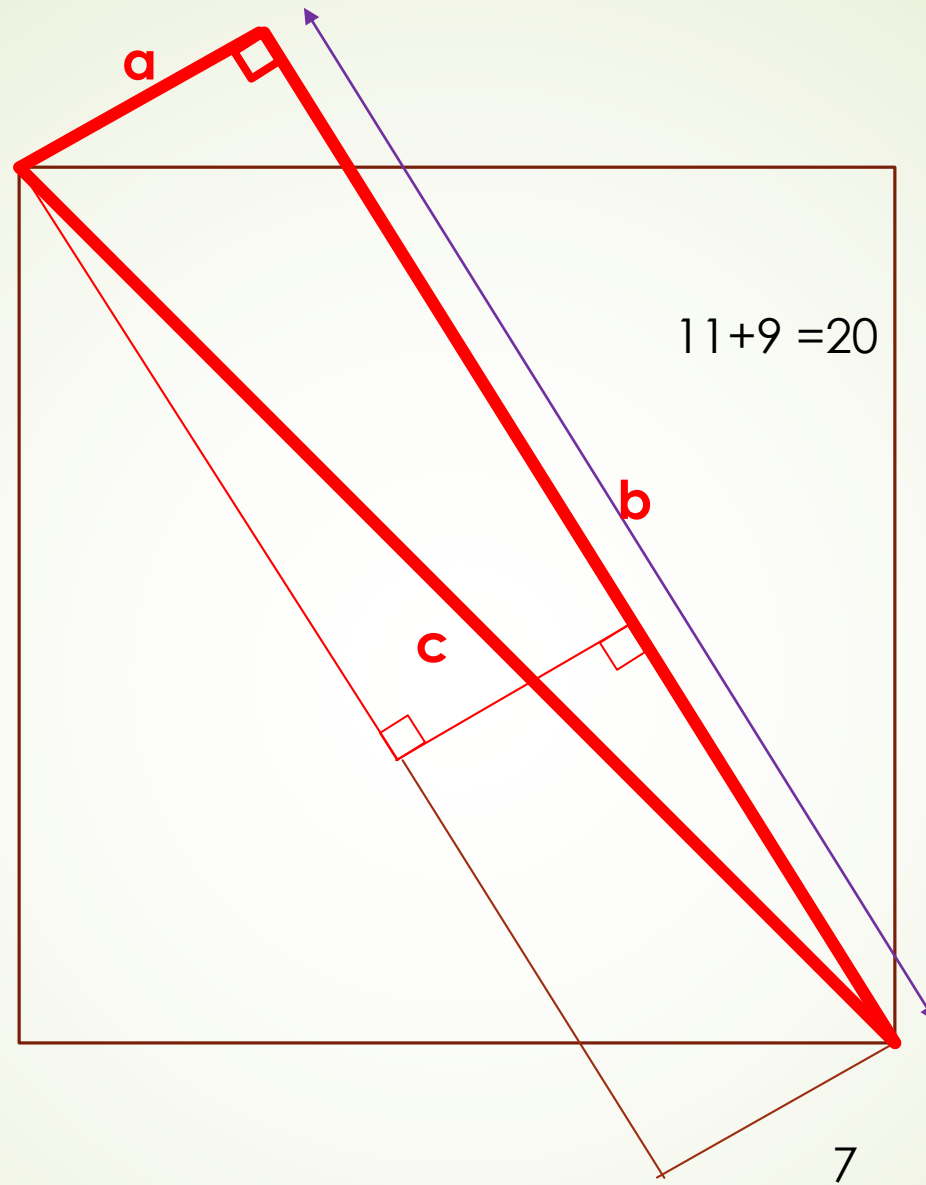






Tous les triangles rectangles ont un angle droit (à 90 degrés) et une hypoténuse qui est le côté opposé à cet angle. L'hypoténuse est le plus long des trois côtés.

Pour calculer l'hypoténuse en utilisant le théorème de Pythagore, on doit connaître la longueur des deux autres côtés. Et c'est notre cas !



Selon le théorème de Pythagore :

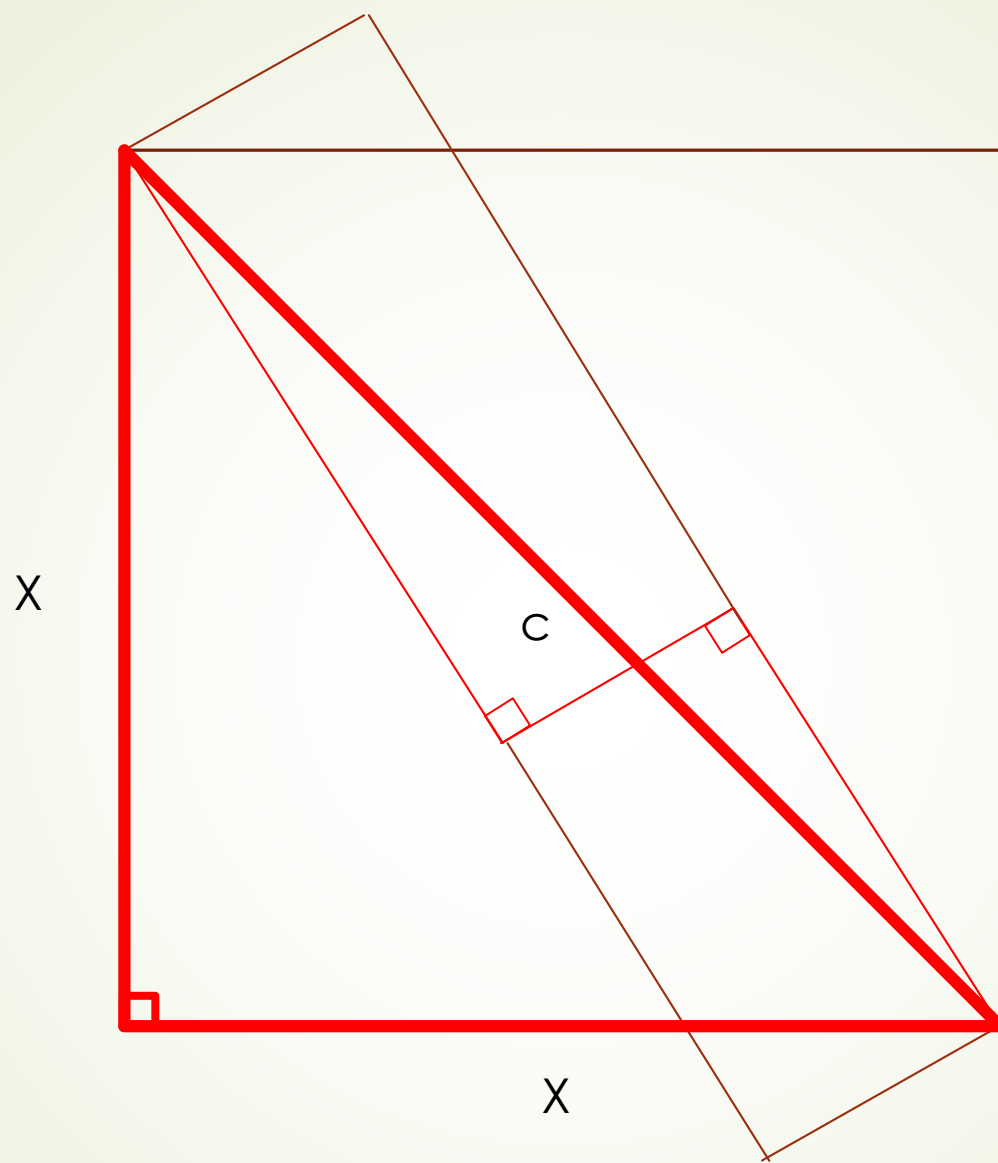
$$a^2 + b^2 = c^2$$

Donc :

$$7^2 + 20^2 = C^2$$

$$49 + 400 = 449$$

$$C^2 = 449$$



$$\begin{aligned}C^2 &= 449 \\x^2 + x^2 &= C^2 \\x^2 + x^2 &= 449 \\X^2 &= 449/2 \\X^2 &= 224,5 \\X &= \sqrt{224,5}\end{aligned}$$

$$X = 14,9833240638$$

$$X = 14,98$$

Vous déplacer rue des Maillochères. L'indicateur de passage se trouve à 10 pas des nouvelles barrières fermant la rue.

Position Google Maps : **8GHC+H5W** Brissac-Loire-Aubance ou **47.328992, -0.479534**

Indiquez le numéro de l'indicateur de passage 10.

Réponse courte

Un vigneron entre dans sa cave dans le noir complet. Dans un carton, il a entreposé 6 bouteilles de vin rouge, 4 de rosé et 2 de vin blanc. Combien doit-il prendre de bouteilles au minimum pour être certain de sortir avec deux bouteilles de vin de la même couleur ? La réponse doit être donnée en lettre. Exemple : "vingt"

Réponse courte

Bonne réponse : **quatre**

Rouge	Rosé	Blanc
Rouge	Rosé	Blanc
Rouge	Rosé	
Rouge	Rosé	
Rouge		
Rouge		

Dernier point à trouver. Pour départager les éventuels ex æquo. Vous déplacer au monument aux morts près de l'église. L'indicateur de passage se trouve à 13 pas du puits situé à l'arrière du local tagué.



Position Google Maps : **8GJF+G4M** Brissac-Loire-Aubance ou **47.331335, -0.477206**

Indiquez le numéro de l'indicateur de passage.

Réponse courte

Quelle est la surface totale de Vauchrézien en Km² (2 décimales obligatoires) *

- 102,25 Km²
- 19,73 Km²
- 23,54 Km²
- 145,02 Km²



☑ Choisissez les bonnes réponses :

Le dernier nom de rue donné à Vauchrézien en 2021 ?

1 points


Rue du Lavoir

Rue de la Dîme

Rue des puits

Impasse des Pampres



 [Ajouter un commentaire à la question](#)

Terminé

☑ Choisissez les bonnes réponses :

Quelle est l'altitude mini de Vauchrézien ?

1 points

21 mètres

25 mètres

29 mètres



31 mètres

 [Ajouter un commentaire à la question](#)

Terminé

Que s'est-il passé d'extraordinaire dans le centre bourg en 1974 ? *

- l'incendie de l'église ←
- le déplacement du monument aux morts du cimetière vers l'église
- la fermeture du jeu de boules de fort près de l'église
- la démolition du lavoir en bas du bourg

Combien d'inscriptions avons nous eu pour cette chasse ? *

Réponse courte

.....

